

IranArze.ir

@iranarze

@iranarze



کد محصول  
ES377-p1401



زمان برگزاری آزمون  
۱۵ مهر ۱۴۰۱

اصل سوالات آزمون استخدامی

# تامین اجتماعی

(حیطه عمومی)

✓ اصل سوالات آزمون استخدامی تامین اجتماعی

✓ شامل ۳۳ سوال به همراه کلید سوالات در انتهای جزوه

✓ مجری آزمون: جهاد دانشگاهی



## لینک های مفید آزمون استخدامی تامین اجتماعی

خرید سوالات تامین اجتماعی	دانلود رایگان سوالات تامین اجتماعی با پاسخنامه
خرید سوالات استخدامی ۱۰ سال اخیر	خرید جزوه عمومی
خرید سوالات مصاحبه	خرید جزوه مصاحبه
خرید سوالات آشنایی با سازمان تامین اجتماعی	منابع آزمون
اخبار آزمون	شبکه های اجتماعی ایران عرضه (فایل های رایگان + تخفیفات هفتگی + اخبار)
(برای مشاهده هر بخش روی آن بزنید  )	

## فهرست مطالب

❖ فصل اول: سوالات استخدامی تایپ شده حیطه عمومی تامین اجتماعی ۱۵ مهر ۱۴۰۱ - صفحه ۴

فناوری اطلاعات - معارف اسلامی - زبان و ادبیات فارسی - اطلاعات عمومی، دانش اجتماعی و قانون اساسی -  
ریاضی و آمار مقدماتی

❖ فصل دوم: کلید سوالات آزمون استخدامی حیطه عمومی تامین اجتماعی ۱۵ مهر ۱۴۰۱ صفحه ۹

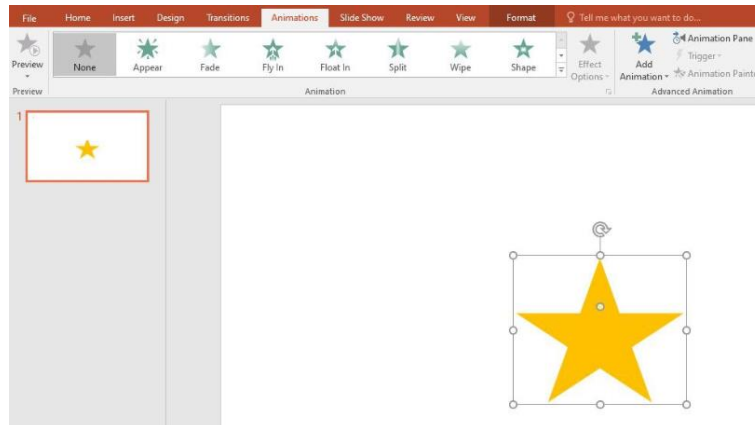


## ❖ فصل اول: سوالات استخدامی تایپ شده حیطة عمومی تامین اجتماعی ۱۵ مهر

۱۴۰۱

## ❖ فناوری اطلاعات

با توجه به تصویر به ۳ سوال بعدی پاسخ دهید.



۱- در تصویر نشان داده شده در powerpoint, چند اسلاید وجود دارد؟

(۱) یک (۲) دو (۳) مشخص نیست (۴) سه

۲- اسلاید مورد نظر دارای چه نوع Animation است؟

(۱) None (۲) Exit (۳) Fade (۴) Emphasis

۳- اگر ستاره موجود در اسلاید بچرخانیم چه اتفاقی در orientation می افتد؟

(۱) در قسمت orientation به صورت portrait عمودی بوده تبدیل به افقی landscape می شود

(۲) در قسمت orientation به صورت افقی می شود.

(۳) هیچ تغییری در orientation رخ نمیدهد.

(۴) در قسمت orientation به صورت افقی landscape بوده و تبدیل به portrait عمودی می شود

۴- کدام آدرس Url صحیح می باشد؟ (iranarze)

(۱) <https://www.google.com/> (۲) [http:// google.com](http://google.com)(۳) <https:// google.com/> (۴) <https://www.google.com/>

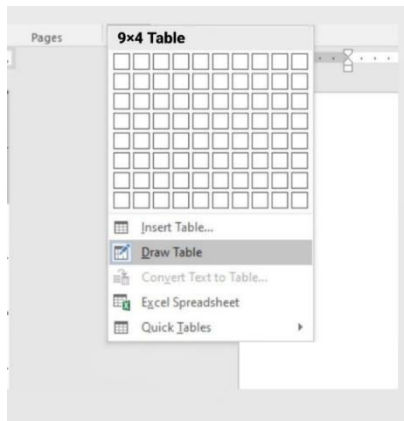
۵- در نرم افزار outlook کدام گزینه قابل دسترسی نیست؟

(۱) Mail (۲) Calendar (۳) Movie (۴) Tasks

۶- حاصل تابع  $(ABS(A))$  در Excel چه می باشد؟ (مقدار  $A = -16$ )

(۱) ۴ (۲) ۲۵۶ (۳) #Num (۴) ۱۶

با توجه به تصویر به ۳ سوال بعدی پاسخ دهید.



۷- تصویر بالا مربوط به چیست؟

(۱) درج جدول موجود (۲) درج جدول جدید (۳) درج سایز جدول (۴) درج عنوان جدول

۸- کدام گزینه با ابزار Draw Table امکان پذیر نیست؟

(۱) می توان سلول به جدول اضافه کرد (۲) می توان خطوط مورب اضافه کرد  
(۳) می توان برای جدول حاشیه ایجاد کرد (۴) می توان از قبل تعداد سلول ها را وارد کرد یا مشخص کرد  
۹- با ایجاد جدول کدام سربرگ جدید ایجاد می شود؟

(۱) Chart tools (۲) Table tools (۳) Insert tools (۴) Draw tools

## معارف اسلامی

۱۰- آنگاه که افعال فاعل در غایت استواری و کمال و به دور از هرگونه نقصانی مطرح می شوند آن فاعل موصوف به کدام وصف است؟

(۱) قدیر (۲) حکیم (۳) عادل (۴) علیم

۱۱- آیات «و لا نکلف نفسا الا وسعها» و «فلا تظلم نفس شیئا» به ترتیب شامل کدام معنای عدل است؟

(۱) تشریعی - جزایی (۲) تشریعی - تشریعی

(۳) جزایی - تشریعی (۴) جزایی - جزایی

۱۲- اگر بگوییم جهان معلول است و هر معلولی نیازمند علت است بنابراین جهان نیازمند علتی است که ان علت یا خداست یا به خدا می رسد، به کدام موضوع اشاره دارد؟ ایران عرضه

(۱) تقریر برهان هدمندی (۲) برهان نظم از موارد جزئی

(۳) برهان هماهنگی کل عالم (۴) تقریر برهان علی

۱۳- صفاتی که از ارتباط ذات الهی با مخلوقات انتزاع می شوند کدام اند؟

(۱) صفات فعلی مثل خالق بودن (۲) صفات فعلی مثل قادر بودن

(۳) صفات ذاتی مثل خالق بودن (۴) صفات ذاتی مثل قادر بودن

۱۴- کدام مورد تبیین مناسبی از حکمت عملی ارائه نموده است؟

- (۱) کسب علم حصولی به مفاهیم ذهنی انسان (۲) آگاهی انسان به ذات خود و قوای ادراکی  
(۳) علم به تکالیف و وظایف انسان (۴) بیدار کردن و برانگیختن گنجینه های فطری آدمی

۱۵- با توجه به آیه ی شریفه ی « ثم سواه نفخ فیه روحه » مقصود کلمه ی « سواه » کدام است؟

- (۱) انسان دو ساحتی است و نیمه ی برتر ان روح است.  
(۲) خلقت جسمانی و پردازش آفرینش ظاهری انسان  
(۳) حقیقت حیات انسان روح اوست که باقی است.  
(۴) خلقت روح و دمیدن آن در جسم

## ◀ ادبیات فارسی

۱۶- معنی «گان» در کدام گزینه متفاوت است؟

- (۱) مهرگان (۲) بردگان (۳) گویندگان (۴) مژگان

۱۷- نگارش کدام عبارت صحیح است؟

- (۱) چشمانش را باز و به من خیره شد (۲) چشمانش را باز و فوراً بست  
(۳) چشمانش را باز و به من نگریست (۴) چشمانش را باز و به من نگاه کرد

۱۸- کدام عبارت از نظر نگارشی صحیح است؟

- (۱) هوشنگ ابتهاج «۱.۵.سایه» مقاله ارزشمندی دارد  
(۲) جواب داد که: مرا قضای آسمانی در این ورطه کشید  
(۳) سعدی -رحمه الله علیه- در شیراز مدفون است  
(۴) جناب استاد، درسی که از شما فرا گرفتم، بسیار آموزنده بود

۱۹- بیت زیر چند جمله دارد؟

«حیلت رها کن عاشقا دیوانه شو دیوانه شو و اندر دل آتش درآ پروانه شو پروانه شو»

- (۱) ۵ (۲) ۷ (۳) ۸ (۴) ۴

۲۰- در بیت زیر علت خود بینی چیست؟

« نبیند مدعی جز خویشتن خویش را که دارد پرده ی پندار در پیش »

- (۱) بی توجهی به عواقب کارها (۲) پیروی از لذات زندگی  
(۳) حجاب گمان باطل (۴) احساس بی نیازی نسبت به دیگران

۲۱- کدام سروده فاقد آرایه ی پارادوکس است؟ {ا یر ا ن عرضه}

- (۱) هم دوش روز و شبی، هم پرده ی سحری (۲) آواره ی حضری، فرسوده ی سفری

۳) پیدای نادره ای، پنهان جلوه گری (۴) نوباوه ی سخنی، خاموش و نغمه گری

۲۲- کدام مورد در قالب رمان نوشته نشده است؟

(۱) زن زیادی (۲) همسایه ها

(۳) سووشون (۴) تنگسیر

۲۳- مفهوم کدام بیت با سایر ابیات متفاوت است؟

(۱) به ترک خویش بگو تا به کوی یار رسی که کارهای چنین با خطر تواند بود.

(۲) ز تنگ چشمی در خاطر تو کی گذرد که هیچ چیز به از سیم و زر تواند بود.

(۳) وصال دوست طلب می کنی بلاکش باش که خار و گل همه با یکدگر تواند بود.

(۴) کسی به گردن مقصود دست حلقه کند که پیش تیر بلا سپر تواند بود.

۲۴- معنی هر یک از واژه های رو به رو به ترتیب کدام است؟ « مهنّا - خریف - رجا »

(۱) شاداب - پاییزی - رضایت (۲) گوارا - پاییز - امید

(۳) گوارا - بهار - رضایت (۴) شاداب - بهار - امیدواری

۲۵- معنی کدام واژه نادرست است؟

(۱) طالح: گنهکار (۲) حشو: زاید (۳) روایح: روح ها (۴) حصین: استوار

۲۶- در متن زیر املای کدام واژه نادرست است؟

«طنز پرداز، دیدگاه های خود را غیر مستقیم، مطایبه آمیز و کنایه وار، اما موثر و گیرا بیان می کند. او این زبان هنرمندانه را برای خلق اندیشه های ظریف یا نظیره گویی به کار می برد و با آشنا زدایی و هنجار شکنی مطلوب و متبوع، سخنی دیگر می آفریند.»

(۱) مطایبه آمیز (۲) نظیره گویی (۳) هنجار شکنی (۴) متبوع

## ◀ اطلاعات عمومی

۲۷- جالینوس عرب لقب کدام یک از مشاهیر ایران است؟

(۱) نصیر الدین طوسی (۲) ابوریحان بیرونی

(۳) ابن سینا (۴) محمد زکریای رازی

۲۸- مقر دائمی دبیر سازمان همکاری اقتصادی (اگو) پایتخت کدام کشور است؟

(۱) آذربایجان (۲) پاکستان (۳) ایران (۴) ترکیه

## ◀ ریاضی و آمار مقدماتی

۲۹- اگر A و B دو مجموعه ناتهی از مجموعه مرجع M باشند، مجموعه  $f(B'-A)$  اشتراکش با B با کدام مجموعه برابر است؟



(۱) تهی M (۲) B (۳) A (۴)

۳۰- اگر دو خط  $ax - 3y = -6$  و  $by - x = 4$  همدیگر را در نقطه (2,2) قطع کنند، مقدار  $a+b$  کدام است؟

(۱) ۳ (۲) ۴ (۳) ۹ (۴) ۲

۳۱- ۴ پرستار و ۳ پزشک به چند طریق میتوانند در یک ردیف بنشینند، به طوری که هیچ دو پرستاری کنار هم قرار نداشته باشند؟


(۱) ۷۲ (۲) ۳۶ (۳) ۱۲ (۴) ۱۴۴

۳۲- متغیر گروه خونی اهداکنندگان در یک مرکز اهدای خون، چه نوع متغیری است؟ (متعلق به سایت ایران عرضه)

(۱) کیفی ترتیبی (۲) کمی گسسته (۳) کمی پیوسته (۴) کیفی اسمی

۳۳- برای تعدادی داده آماری، انحراف معیار و مجموع مربعات به ترتیب  $\sqrt{2}$  و ۷۵۶ است. اگر میانگین برابر ۴ باشد، تعداد داده ها کدام است؟

(۱) ۸۴ (۲) ۶۳ (۳) ۴۲ (۴) ۱۲۶





سوال	پاسخ	سوال	پاسخ	سوال	پاسخ	سوال	پاسخ	سوال	پاسخ	سوال	پاسخ
۱	۱	۲۴	۲								
۲	۱	۲۵	۳								
۳	۳	۲۶	۴								
۴	۱	۲۷	۴								
۵	۳	۲۸	۴								
۶	۱	۲۹	۱								
۷	۲	۳۰	۱								
۸	۴	۳۱	۴								
۹	۲	۳۲	۴								
۱۰	۲	۳۳	۳								
۱۱	۱										
۱۲	۴										
۱۳	۱										
۱۴	۳										
۱۵	۲										
۱۶	۱										
۱۷	۴										
۱۸	۳										
۱۹	۲										
۲۰	۳										
۲۱	۱										
۲۲	۱										
۲۳	۲										